



Sesión 14

Marcas viales



Objetivo de la sesión:

- Conocer las marcas viales que existen y su función.

Contenidos de la Ficha 1:

Normas de la Circulación	Código lingüístico	Contenidos socioculturales
- Clases de marcas viales - Líneas blancas longitudinales - Líneas blancas transversales - Otras marcas e inscripciones de color blanco.	Conceptos: <i>cebreado, discontinuo-continuo.</i>	

Actividades para la Ficha 1:

1. **Motivación (15 m.):** En grupo, contestan a la pregunta inicial: *¿Qué son las marcas viales?* poniendo ejemplos concretos. Comentan también por qué existen las marcas viales además de las señales verticales... Anota en la pizarra sólo los tipos de marcas que se mencionen, con tizas de colores dibuja la marca vial y agrúpalas para facilitar su memorización: *líneas blancas, señales horizontales, flechas de carril, marcas informativas, de estacionamiento, marcas amarillas o marcas azules.*
2. **Relacionar imagen con texto (15 m.):** Por parejas, escriben el número de la imagen que corresponde a cada texto. En la puesta en común, resuelve dudas y completa los dibujos de la pizarra con las marcas viales que faltaban.
3. **Más líneas blancas (10 m.):** En grupo, contestan a la pregunta: *¿Qué es la línea de detención?* (se trabajó en la Sesión 12). Deja claro que la línea de detención nunca hay que sobrepasarla. Trabaja del mismo modo *el cebreado, zona que no puede pisarse nunca, salvo que esté delimitado por líneas discontinuas, en cuyo caso se puede pisar sólo para atravesarlo.*
4. **Test 5 m.):** Leer la pregunta, responderla individualmente y en la puesta en común, comentar el uso en los test del tratamiento de usted.

Materiales: pizarra, tizas de color blanco, amarillo y azul.

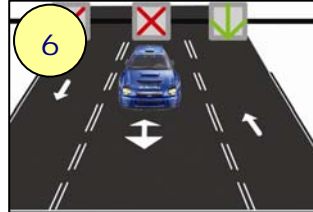
Mi aportación a esta Guía:



Marcas viales



¿Qué son las marcas viales?



LÍNEAS BLANCAS:

- 1 Línea discontinua
- 2 Línea continua
- 4 Línea discontinua ancha
- 3 Línea discontinua junto a continua
- 6 Línea discontinua doble
- 5 Línea de borde de calzada
- 8 Marca de paso para ciclistas
- 7 Marca de paso para peatones



Línea de detención.
Prohibido sobrepasarla.

Cebreado enmarcado por línea continua. Prohibido pisarlo.




Comienzo de carril reservado. Se puede pisar para salir de él.



1. ¿Puede usted circular sobre las marcas viales del centro de la calzada?

- a) Sí, porque son discontinuas.
- b) Sí, porque es un tramo recto y hay seguridad.
- c) No.





Contenidos de la Ficha 2:


Normas de la Circulación	Código lingüístico	Contenidos socioculturales
- Flechas de carril - Señales horizontales de circulación		

Actividades para la Ficha 2:

- Señales horizontales (10 m.):** De manera individual, relacionan las señales verticales con las marcas viales que les corresponden recogidas en las fotografías. En la puesta en común, resuelve todas las dudas que surjan. En grupo, leen la frase del Código y explican qué significa con ejemplos.
- Otras señales (5 m.):** Las imágenes recogen una marca de zona reservada y otra informativa. En grupo, explican si las conocen y qué indican. Resuelve sus dudas.
- Test (10 m.):** Contestan de manera individual y se hace puesta en común después.
- Marcas de estacionamiento (10 m.):** En grupo, explican para qué creen que se pintan las marcas de estacionamiento, qué tipos hay y la diferencia entre las de color blanco y las azules.

Materiales: pizarra.

Mi aportación a esta Guía:



Marcas viales




FAEA

¿A qué señal vertical corresponde cada una de las marcas viales?



FAEA



La marca vial obliga a los vehículos que circulan por el carril en el que está pintada.



ZONA RESERVADA

FAEA



DIRECCIÓN

FAEA



FAEA

2. ¿Qué indican las letras?

- a) La proximidad de un paso a nivel sin barreras, únicamente.
- b) La proximidad de un paso a nivel con barreras, únicamente.
- c) La proximidad de un paso a nivel con o sin barreras.



FAEA

3. Esta señal se refiere...

- a) A todos los carriles que tenga la calzada.
- b) Únicamente al carril en que está situada la señal y al contiguo.
- c) Exclusivamente al carril en el que está situada la señal.

MARCAS DE ESTACIONAMIENTO



¿Qué indican?

FAEA

Las **marcas azules** indican limitación en la duración del estacionamiento.

FAEA





Contenidos de la Ficha 3:

Normas de la Circulación	Código lingüístico	Contenidos socioculturales
- Marcas de estacionamiento - Marcas de otros colores	- Conceptos: <i>retener, retenido, retención.</i>	

Actividades para la Ficha 3:

9. **Marcas amarillas (5 m.):** En la Sesión 17: *Parar, estacionar y detener*, se trabajarán estas marcas viales y su significado más despacio. En esta Sesión se introduce sólo oralmente cada imagen con su significado. Por ejemplo: *prohibido estacionar; prohibido parar y estacionar*. En grupo, comentan si han visto alguna vez la cuadrícula amarilla y dónde estaba situada. Visualizarla en la realidad facilitará comprender su significado. Aclara el significado del concepto *retenido*.
10. **Flechas de carril (15 m.):** En grupo, comentan si conocen las marcas viales que recogen las fotos y su significado: *Flechas de selección de carriles, flecha de fin de carril, flecha de retorno, flecha de salida*. De manera individual, relacionan cada imagen con su definición, escribiendo el número que le corresponde tras los dos puntos de la frase. En la puesta en común, completa sus explicaciones con los dibujos de la pizarra.
11. **Test (5 m.):** Lee cada pregunta para que el grupo debata la respuesta más acertada. Lee después las respuestas para que cada uno decida cuál se ajusta más a la suya.

Materiales: pizarra y tizas de colores.

Mi aportación a esta Guía:



Para ampliar más el tema:

- Señal de separación de carriles (bifurcación)
- Funcionamiento de la zona azul de estacionamiento.

Marcas viales

Sesión 14 Ficha 3



MARCAS AMARILLAS

¿Recuerdas qué significa cada marca?



prohíbe
estacionar

prohíbe
parar y estacionar

prohíbe
estacionar



FAEA

No debo entrar en la intersección si veo que puedo quedar retenido dentro de ella.

RETENIDO: atrapado, atascado


Flechas de carril ¿Qué indican?

Obliga a seguir una dirección: **1**

Avisa del final de un carril: **3**

Avisa de una línea continua: **2**

Indica dónde empieza el carril de salida: **4**



FAEA



4. ¿Qué indica la flecha?

- a) Que el carril de la izquierda va a terminar.
- b) Que puede adelantar si se da prisa.
- c) Que se aproxima a una línea continua y no podrá circular a la izquierda de la misma.



D.G.T.

5. Este vehículo quiere seguir de frente, ¿puede hacerlo?

- a) Sí, desplazándose al carril derecho.
- b) No, las marcas de la calzada se lo impiden.
- c) Sí, pero después de hacer el stop como si fuera a girar.



D.G.T.

