



Sesión 20

Evaluación bloque B



| | | |
|------------------|--|--|
| Sesión 11 | Señales | Contenidos del Código de la Circulación |
| | <p>Objetivos:</p> <p>Conocer las diferentes formas de señalización, su clasificación y el orden de obediencia.</p> | <ul style="list-style-type: none"> - Clasificación de las señales por orden de obediencia o prioridad - Señales y órdenes de los agentes de circulación: visuales y acústicas. - Personas de obras, policía militar y patrullas escolares. |
| Sesión 12 | Semáforos | Contenidos del Código de la Circulación |
| | <p>Objetivos:</p> <p>Conocer los tipos de semáforos que existen y su utilización.</p> | <ul style="list-style-type: none"> - Semáforos circulares para vehículos - Semáforos circulares con flecha negra sobre fondo rojo, flecha verde sobre fondo negro y amarillo con flecha negra. - Semáforos cuadrados o de carril. - Semáforos reservados a determinados vehículos. - Obediencia cuando existen semáforos a ambos lados. - Obediencia cuando hay señales verticales unidas al semáforo. |
| Sesión 13 | Señales verticales | Contenidos del Código de la Circulación |
| | <p>Objetivos:</p> <p>Distinguir los distintos tipos de señales verticales que existen.</p> | <ul style="list-style-type: none"> - Señales de reglamentación: de preferencia o prioridad. - Señales de advertencia de peligro. - Señales de prohibición de entrada, restricción de paso, y otras prohibiciones. - Señales de fin de prohibición o restricción. - Señales de obligación. |
| Sesión 14 | Marcas viales | Contenidos del Código de la Circulación |
| | <p>Objetivos:</p> <p>Conocer las marcas viales que existen y su función.</p> | <ul style="list-style-type: none"> - Clases de marcas viales. - Líneas blancas longitudinales. - Líneas blancas transversales. - Otras marcas e inscripciones de color blanco. - Marcas de estacionamiento. - Marcas de otros colores. |
| Sesión 15 | Luces para ver | Contenidos del Código de la Circulación |
| | <p>Objetivos:</p> <p>-Conocer la norma general del código con respecto a la luz de carretera y a la luz de cruce.</p> | <ul style="list-style-type: none"> -Luces obligatorias para ver. -Diferentes nombres de la luz larga y de la luz corta. -Casos en los que es obligatorio encender la luz larga y casos en los que está prohibido. -Casos en los que es obligatorio encender la luz corta. -Señales verticales relacionadas con el tema. -La luz de posición. |



| | | |
|----------------|---|---|
| Sesi- ón 16 | La velocidad | Contenidos del Código de la Circulación |
| | <p>Objetivos:</p> <ul style="list-style-type: none"> - Conocer las velocidades máximas y mínimas permitidas en las distintas vías. | <ul style="list-style-type: none"> - Las velocidades máximas permitidas en los diferentes tipos de vías. La velocidad mínima en las diferentes vías. - Cuándo se puede circular por debajo de la velocidad mínima. - Las velocidades máximas y mínimas genéricas de las vías y las de las señales. - Las velocidades máximas y mínimas en las señales: comienzo y fin. - La velocidad máxima indicada por las marcas viales. |
| Sesi- ón 17 | Parar, estacionar o detener | Contenidos del Código de la Circulación |
| | <p>Objetivos:</p> <ul style="list-style-type: none"> - Diferenciar los conceptos de parada, estacionamiento y detención. - Conocer las normas relacionadas con las dos maniobras: parada y estacionamiento. | <ul style="list-style-type: none"> - Conceptos relacionados con la inmovilización del vehículo: <i>parada, estacionamiento y detención</i>. - Situaciones posibles que provocan una <i>detención</i>. - Señales relacionadas con la <i>parada</i> y el <i>estacionamiento</i>: señales verticales de indicación y de prohibición; marcas viales amarillas. - Lugares en los que está prohibido estacionar o parar aunque no exista una señal que lo prohíba. |
| Sesi- ón 18 | Circular en poblado | Contenidos del Código de la Circulación |
| | <p>Objetivos:</p> <ul style="list-style-type: none"> - Conocer y recordar las principales normas para circular en poblado. - Conocer las señales más frecuentes dentro de poblado. | <ul style="list-style-type: none"> - Tipos de vías dentro de poblado: <i>vías urbanas y travesías</i>. - Principales normas dentro de poblado. - El paso para peatones: señales verticales, marcas viales y preferencia de paso. - La distancia de seguridad en poblado. - Señales relacionadas con la circulación dentro de poblado. - El carril reservado para autobuses y taxis: señales. - Las señales acústicas en poblado. - El adelantamiento en poblado. |
| Sesi- ón 19 | Circular por carretera | Contenidos del Código de la Circulación |
| | <p>Objetivos:</p> <ul style="list-style-type: none"> - Conocer las principales normas para circular por las vías interurbanas. | <ul style="list-style-type: none"> - Las diferentes vías interurbanas. - Las normas generales de circulación por carretera. - Utilización de los carriles. - Circulación por autopista y autovía: vehículos que pueden circular y vehículos que tienen prohibida la circulación por estas vías. - Repaso de la velocidad máxima y mínima. - La distancia de seguridad en las vías interurbanas. - El arcén en las vías interurbanas: circulación, parada, estacionamiento y detención. |
| Sesi- ón 20 | Valoración del bloque B | |
| | <p>Objetivos:</p> <ul style="list-style-type: none"> - Evaluar el proceso seguido hasta el momento en el curso. - Evaluar el grado de comprensión y asimilación de los contenidos trabajados hasta el momento. | |



1. **Motivación (5 m.):** Explica al grupo cómo se va a desarrollar la Sesión de hoy, qué test van a realizar, cuántas preguntas deben responder, de cuánto tiempo disponen y dónde deben anotar las respuestas correctas.
2. **Test (60 m.):** Pide que cada participante responda al test de manera individual y marquen sus respuestas en la hoja de anotación correspondiente. En este momento no se pueden preguntar dudas, ni pedir que se lea en alto la pregunta...
3. **Corrección de las respuestas (15 m.):** Corrige el test, reproduciendo en la pizarra la hoja de examen si es necesario y marcando la x en la casilla correspondiente a cada respuesta. Los alumnos corrigen en rojo sobre su hoja de respuestas. Observa los fallos más frecuentes, para poder insistir en esos conceptos más adelante. Recoge las hojas de respuestas para evaluar individualmente y hacer anotaciones en la Ficha de Seguimiento del Alumno. Cada uno puede corregir también en el test de manera individual, ya que tienen las respuestas anotadas al final del mismo.
4. **Evaluación global del curso (40 m.):** Promueve un debate grupal para valorar la marcha del curso sobre los siguientes aspectos: *los contenidos del curso, los materiales, el profesor o profesora y el grupo*. Puedes hacer preguntas del tipo: *¿Estás a gusto?, ¿crees que estás estudiando lo que se dijo el primer día de clase?, ¿cómo es la relación entre las personas del grupo?, ¿ves útil el trabajo que se realiza en clase?, ¿participas en la clase?, la forma de explicar del profesor o profesora, ¿es clara?, ¿las fichas de trabajo son adecuadas?, ¿entiendes los temas que se han trabajado hasta ahora?, ¿cambiarías alguna cosa en la forma de dar las clases?, ¿hay algún tema que te preocupa especialmente de todos los que contiene el curso?, ¿qué te ha parecido este examen?...* Toma notas de lo que manifieste cada alumno para poder trasladarlas a la Ficha de Seguimiento del Alumno.



1. ¿Qué luces para ver son obligatorias para un turismo?

- a) Sólo las de corto alcance o de cruce.
- b) Las de cruce, las de carretera y las de marcha atrás.
- c) Las de cruce y las de carretera.



FAEA

2. En esta travesía de un poblado insuficientemente iluminada, circulará...

- a) Con la luz de posición y de cruce o de corto alcance
- b) Con la luz de largo alcance o carretera.
- c) Con la luz de posición solamente



D.G.T.

3. ¿A qué velocidad máxima podrá circular a partir de esta señal?

- a) A 50 Km./h.
- b) A 60 Km./h.
- c) A 50 Km./h. aunque podré superarla en 20 Km./h. para adelantar.



FAEA

4. Como norma general, ¿cuál de las siguientes luces está prohibido utilizar al circular de noche por una travesía?


- a) Las de cruce o corto alcance.
- b) Las de niebla.
- c) Las de carretera o largo alcance.



FAEA

5. ¿A qué velocidad máxima podrá circular a partir de esta señal?

- a) A 20 Km./ h.
- b) A 30 km./h.
- c) A 50 Km./h. como en el resto de las vías urbanas.



FAEA

6. Los accidentes que más víctimas producen en poblado son:

- a) Los atropellos a peatones
- b) Las colisiones frontales entre vehículos
- c) Los alcances traseros



D.G.A.

7. ¿Qué indica una línea continua de color amarillo junto al bordillo?

- a) Prohibido parar y estacionar.
- b) Prohibido hacer una parada.
- c) Prohibido detenerse.



FAEA

8. En las proximidades de una curva de visibilidad reducida, está prohibido...

- a) Parar y estacionar.
- b) Parar, únicamente.
- c) Estacionar, únicamente.



FAEA

9. En poblado, ¿qué distancia de seguridad debe dejar respecto al vehículo que circula delante de su turismo?

- a) 50 m. como mínimo.
- b) Un espacio libre que me permita detener mi vehículo en caso de frenado brusco del que circula delante sin colisionar con él.
- c) Un espacio libre que permita al vehículo que va detrás adelantarme con seguridad.



FAEA

10. En una vía urbana, con tres carriles para el mismo sentido, Ud circulará...

- a) Siempre por el carril de la derecha.
- b) Por el carril que más convenga a mi destino.
- c) Por el carril de la derecha y el del centro, dejando el de la izquierda para los adelantamientos.



FAEA

11. En esta vía, ¿a qué velocidad máxima le está permitido circular a partir de la señal?

- a) A 50 kilómetros por hora.
- b) A 90 kilómetros por hora.
- c) A 120 kilómetros por hora.



FAEA

12. ¿Cree Ud. que el vehículo blanco se ha detenido en el lugar adecuado para cumplir la señal de STOP?

- a) Sí, porque es una zona especialmente acondicionada para tal fin.
- b) No, porque es una zona reservada a inmobilizaciones por emergencia.
- c) No, porque se ha detenido en una zona en la que está prohibida la entrada a vehículos.



D.G.T.

13. En un paso para peatones, ¿está permitido parar y estacionar?

- a) No.
- b) Está permitido parar y está prohibido estacionar.
- c) Sí.



FAEA

14. En un carril reservado para autobuses, ¿le está permitido parar su turismo?


- a) No, como norma general.
- b) Sí, siempre que deje espacio suficiente para que puedan pasar los autobuses.
- c) Sólo por tiempo inferior a 2 minutos.



FAEA

15. ¿Debe llevar abrochado el cinturón de seguridad cuando circula por una vía urbana?

- a) Sí, en todo caso.
- b) No, porque sólo se exige utilizar el cinturón en vías interurbanas.
- c) No, si voy a poca velocidad.



FAEA

16. Un toque largo de silbato emitido por un Agente de la Circulación, ¿qué indica?

- a) Reanudación de la marcha.
- b) Detención obligatoria.
- c) Disminución de la velocidad.



D.G.T.

17. ¿Puede usted estacionar su vehículo en doble fila?

- a) Sí, cuando no abandone el puesto del conductor.
- b) Sí, por tiempo inferior a 2 minutos.
- c) No, porque está prohibido estacionar en doble fila.



FAEA

18. ¿Puede usted circular sobre las marcas viales del centro de la calzada?

- a) Sí, porque son discontinuas.
- b) Sí, porque es un tramo recto y hay seguridad.
- c) No.



FAEA

19. ¿Qué inmovilización, de las que a continuación se citan, está prohibida en una autopista?

- a) La parada.
- b) La detención para abrocharme el cinturón de seguridad.
- c) La detención porque me duele la cabeza.



D.G.T.

20. ¿Qué alumbrado debe utilizar al circular por este túnel suficientemente iluminado?

- a) El de carretera a largo alcance.
- b) El de posición.
- c) El de corto alcance o de cruce.



FAEA

21. La inmovilización de un vehículo por emergencia se considera...

- a) Una parada.
- b) Un estacionamiento.
- c) Una detención.



FAEA

22. ¿Qué le indica la señal?

- a) La proximidad de una intersección en la que debo detenerme.
- b) La proximidad de una intersección en la que debo ceder el paso.
- c) La proximidad de una intersección en la que tengo preferencia de paso.



FAEA

23. ¿Puede atravesar la línea continua pintada en el eje de la calzada para adelantar al ciclista?

- a) No.
- b) Sí, porque dejo espacio suficiente para el cruce con otro vehículo.
- c) Sí, cuando no se aproxime ningún vehículo por el sentido contrario.



D.G.T.

24. ¿Debe ceder el paso en la intersección a los vehículos que se aproximan por la vía transversal a la vista de las señales?


- a) No.
- b) Sí, porque al existir una contradicción de mensajes, debo obedecer el más restrictivo que es el de la señal de “ceda el paso”.
- c) Sí, siempre que se aproximen por mi derecha.



FAEA

25. Dentro de un atasco, se encuentra detenido en el interior de un túnel, por lo que apaga el motor. ¿Debe tomar más precauciones?

- a) Sí, apagar todas las luces.
- b) Sí, desconectar la radio.
- c) Sí, mantener encendidas las luces de posición.



D.G.T.

26. ¿A qué velocidad máxima puede circular a partir de esta señal?

- a) A 50 km./h.
- b) A 90 km./h.
- c) A 120 km./h.



FAEA

27. Ante la señal del agente, ¿qué debe hacer?

- a) Girar a la izquierda.
- b) Detenerse.
- c) Detenerse sólo si va a girar a la izquierda.



D.G.T.

28. ¿A qué velocidad máxima está permitido circular en esta carretera?

- a) A 100 km./h.
- b) A 90 km./h.
- c) A 80 km./h.



D.G.T.

29. ¿Puede circular en autopista y autovía a una velocidad de 60 km./h.?

- a) Circulando con un turismo no.
- b) Sólo si no se puede circular a más velocidad.
- c) Sí, puesto que es la mínima permitida.



FAEA

30. Si Ud. Va a seguir de frente, ¿a qué semáforo debe obedecer?

- a) Al de la izquierda.
- b) Al de la derecha.
- c) Al que emita el mensaje más restrictivo.



FAEA



1-a; 2-a; 3-a; 4-c; 5-a; 6-a; 7-a; 8-a; 9-b; 10-b; 11-b; 12-c;
13-a; 14-a; 15-a; 16-a; 17-c; 18-c; 19-a; 20-c; 21-c; 22-b;
23-a; 24-a; 25-c; 26-c; 27-b; 28-b; 29-c; 30-a.

Número de fallos en el test escrito:

Valoración:

APROBADO

SUSPENSO

Tengo que repasar:

-
-
-
-

