



Sesión 6

Pasajeros y equipaje

¿Cuántas personas pueden ir en un turismo de cinco plazas autorizadas?



1. En un turismo de cinco plazas autorizadas, ¿está permitido transportar a cinco pasajeros?

- a) Sí, siempre.
- b) Sí, cuando van sentadas y no dificultan por detrás la visión del conductor.
- c) No, porque está prohibido.



FAEA

Recuerda estas palabras...

plazas asientos delanteros y traseros

autorizado permitido

plazas autorizadas número de personas que pueden ir en un vehículo

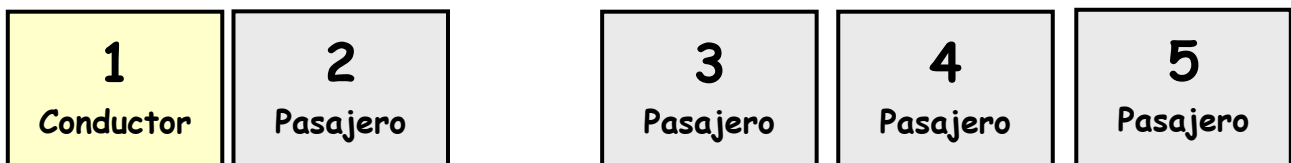
conductor conduce el turismo y ocupa una plaza

pasajeros personas que van en el turismo pero no conducen

5 plazas autorizadas

delante

detrás



EL ASIENTO DE SEGURIDAD

Las personas que miden **menos de 1'35 m.** de altura deben utilizar siempre un asiento de seguridad.

DISPOSITIVO HOMOLOGADO



FAEA



FAEA



FAEA



FAEA

¿Dónde se coloca la carga en un turismo?

1. Preferentemente en el **maletero**.

Aunque también puede ir:

2. En la **baka o portaequipajes**.
3. En un pequeño remolque.



Recuerda que...

Cuando se lleva la carga en la baka el consumo de combustible es mayor.



2. Si lleva el vehículo muy cargado debe tener en cuenta que...

- a) El consumo del vehículo disminuye.
- b) El consumo del vehículo aumenta.
- c) La aceleración es mayor.



D.G.T.

¿Puede sobresalir la carga en un turismo?


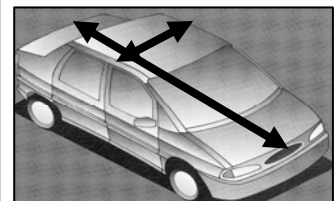
Como norma general, la carga no debe sobresalir de la proyección en planta del turismo.

Si excepcionalmente la carga sobresale por detrás **debe estar señalizada**:

Cuando la carga es **divisible**: puede sobresalir un **10 %** de la longitud total del vehículo.

Cuando la carga es **indivisible**: puede sobresalir un **15 %** de la longitud total del vehículo.

Proyección en planta



Para que un vehículo pueda circular...

La **altura máxima** permitida es de **4 m.**

La **anchura máxima** permitida es de **2,55 m.**



3. ¿Le está permitido a un turismo llevar una carga que sobresalga de la estructura del vehículo?

- a) No, en ningún caso.
- b) No, porque los turismos no pueden llevar carga.
- c) Sí, por la parte posterior, hasta un 10 por ciento de su longitud y si la carga fuera indivisible hasta un 15 por ciento.



D.G.T.

Con las sillas del aula construye un turismo de 5 plazas y calcula:



FAEA

¿Cuánto pesan las sillas vacías?	
Ahora sentaos en las sillas. ¿Cuánto pesas tú y los otros pasajeros?	
Después coloca detrás otra silla con algunos libros. Imagina que es el maletero. ¿Cuánto pesa la carga?	
Por último, suma todas las cantidades.	

TARA= vehículo vacío

CARGA MÁXIMA AUTORIZADA = peso máximo permitido de pasajeros y carga

MASA MÁXIMA AUTORIZADA= tara+ carga máxima autorizada



4. Si la M.M.A. de su turismo es de 1.600 Kg. y la tara es de 1.000 Kg., ¿cuál será su carga máxima autorizada?

- a) 2. 600 Kg.
- b) 600 Kg.
- c) 400 Kg. además del equipaje.



FAEA

Responde sí o no:

1. ¿Está permitido llevar 5 pasajeros en un turismo de 5 plazas autorizadas?	
2. ¿Está permitido llevar 6 pasajeros en un turismo de 7 plazas autorizadas?	
3. Si se coloca la carga en la baca, ¿aumenta el consumo de combustible?	
4. ¿Está permitido llevar un niño de 2 años en el asiento delantero si va en un asiento de seguridad?	
5. Si un niño mide 1,15 m., ¿debe llevar un dispositivo homologado?	
6. Si un vehículo lleva carga en la baca y su altura total es de 3 m., ¿puede circular?	
7. Si un vehículo lleva carga en la baca y su altura total es de 4'50 m., ¿puede circular?	
8. ¿La tara es lo mismo que la carga de un vehículo?	
9. ¿La tara es el peso vacío de un vehículo?	
10. ¿La masa máxima autorizada de un vehículo es el peso del vehículo vacío, más el peso máximo del conductor y los otros pasajeros, más el peso máximo del equipaje?	