

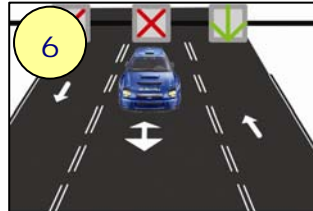


Sesión 14

Marcas viales

Marcas viales

¿Qué son las marcas viales?



LÍNEAS BLANCAS:

- Línea discontinua
- Línea continua
- Línea discontinua ancha
- Línea discontinua junto a continua
- Línea discontinua doble
- Línea de borde de calzada
- Marca de paso para ciclistas
- Marca de paso para peatones



Línea de detención.
Prohibido sobrepasarla.

Cebreado enmarcado por línea continua. Prohibido pisarlo.




Comienzo de carril reservado. Se puede pisar para salir de él.



1. ¿Puede usted circular sobre las marcas viales del centro de la calzada?

- a) Sí, porque son discontinuas.
- b) Sí, porque es un tramo recto y hay seguridad.
- c) No.




D.G.T.



FAEA

¿A qué señal vertical corresponde cada una de las marcas viales?



FAEA



La marca vial obliga a los vehículos que circulan por el carril en el que está pintada.



ZONA RESERVADA

FAEA



DIRECCIÓN

FAEA



2. Estas marcas viales indican la proximidad de...

- a) un paso a nivel sin barreras, únicamente.
- b) un paso a nivel con barreras, únicamente.
- c) un paso a nivel con o sin barreras.



FAEA

3. Esta señal se refiere...

- a) A todos los carriles que tenga la calzada.
- b) Únicamente al carril en que está situada la señal y al contiguo.
- c) Exclusivamente al carril en el que está situada la señal.



FAEA

MARCAS DE ESTACIONAMIENTO



FAEA

Las **marcas azules** indican limitación en la duración del estacionamiento.

FAEA



MARCAS AMARILLAS

¿Recuerdas qué significa cada marca?



FAEA

No debo entrar en la intersección si veo que puedo quedar retenido dentro de ella.

RETENIDO: _____

Flechas de carril ¿Qué indican?

Obliga a seguir una dirección: _____

Avisa del final de un carril: _____

Avisa de una línea continua: _____

Indica dónde empieza el carril de salida: _____



1

FAEA




2

FAEA



3

FAEA



4

FAEA



4. ¿Qué indica la flecha?

- a) Que el carril de la izquierda va a terminar.
- b) Que puede adelantar si se da prisa.
- c) Que se aproxima a una línea continua y no podrá circular a la izquierda de la misma.



D.G.T.

5. Este vehículo quiere seguir de frente, ¿puede hacerlo?

- a) Sí, desplazándose al carril derecho.
- b) Sí, pero después de hacer el stop como si fuera a girar.
- c) No, las marcas de la calzada se lo impiden.



D.G.T.