




Sesión 20

Evaluación bloque B

1. ¿Qué luces para ver son obligatorias para un turismo?

- a) Sólo las de corto alcance o de cruce.
- b) Las de cruce, las de carretera y las de marcha atrás.
- c) Las de cruce y las de carretera.



FAEA

2. En esta travesía de un poblado insuficientemente iluminada, circulará...

- a) Con la luz de posición y de cruce o de corto alcance
- b) Con la luz de largo alcance o carretera.
- c) Con la luz de posición solamente



D.G.T.

3. ¿A qué velocidad máxima podrá circular a partir de esta señal?

- a) A 50 Km./h.
- b) A 60 Km./h.
- c) A 50 Km./h. aunque podré superarla en 20 Km./h. para adelantar.



FAEA

4. Como norma general, ¿cuál de las siguientes luces está prohibido utilizar al circular de noche por una travesía?


- a) Las de cruce o corto alcance.
- b) Las de niebla.
- c) Las de carretera o largo alcance.



FAEA

5. ¿A qué velocidad máxima podrá circular a partir de esta señal?

- a) A 20 Km./ h.
- b) A 30 km./h.
- c) A 50 Km./h. como en el resto de las vías urbanas.



FAEA

6. Los accidentes que más víctimas producen en poblado son:

- a) Los atropellos a peatones
- b) Las colisiones frontales entre vehículos
- c) Los alcances traseros



D.G.A.

7. ¿Qué indica una línea continua de color amarillo junto al bordillo?

- a) Prohibido parar y estacionar.
- b) Prohibido hacer una parada.
- c) Prohibido detenerse.



FAEA

8. En las proximidades de una curva de visibilidad reducida, está prohibido...

- a) Parar y estacionar.
- b) Parar, únicamente.
- c) Estacionar, únicamente.



FAEA

9. En poblado, ¿qué distancia de seguridad debe dejar respecto al vehículo que circula delante de su turismo?

- a) 50 m. como mínimo.
- b) Un espacio libre que me permita detener mi vehículo en caso de frenado brusco del que circula delante sin colisionar con él.
- c) Un espacio libre que permita al vehículo que va detrás adelantarme con seguridad.



FAEA

10. En una vía urbana, con tres carriles para el mismo sentido, Ud circulará...

- a) Siempre por el carril de la derecha.
- b) Por el carril que más convenga a mi destino.
- c) Por el carril de la derecha y el del centro, dejando el de la izquierda para los adelantamientos.



FAEA

11. En esta vía, ¿a qué velocidad máxima le está permitido circular a partir de la señal?

- a) A 50 kilómetros por hora.
- b) A 90 kilómetros por hora.
- c) A 120 kilómetros por hora.



FAEA

12. ¿Cree Ud. que el vehículo blanco se ha detenido en el lugar adecuado para cumplir la señal de STOP?

- a) Sí, porque es una zona especialmente acondicionada para tal fin.
- b) No, porque es una zona reservada a inmovilizaciones por emergencia.
- c) No, porque se ha detenido en una zona en la que está prohibida la entrada a vehículos.



D.G.T.

13. En un paso para peatones, ¿está permitido parar y estacionar?

- a) No.
- b) Está permitido parar y está prohibido estacionar.
- c) Sí.



FAEA

14. En un carril reservado para autobuses, ¿le está permitido parar su turismo?

- a) No, como norma general.
- b) Sí, siempre que deje espacio suficiente para que puedan pasar los autobuses.
- c) Sólo por tiempo inferior a 2 minutos.



FAEA

15. ¿Debe llevar abrochado el cinturón de seguridad cuando circula por una vía urbana?

- a) Sí, en todo caso.
- b) No, porque sólo se exige utilizar el cinturón en vías interurbanas.
- c) No, si voy a poca velocidad.



FAEA

16. Un toque largo de silbato emitido por un Agente de la Circulación, ¿qué indica?

- a) Reanudación de la marcha.
- b) Detención obligatoria.
- c) Disminución de la velocidad.



17. ¿Puede usted estacionar su vehículo en doble fila?


- a) Sí, cuando no abandone el puesto del conductor.
- b) Sí, por tiempo inferior a 2 minutos.
- c) No, porque está prohibido estacionar en doble fila.



FAEA

18. ¿Puede usted circular sobre las marcas viales del centro de la calzada?

- a) Sí, porque son discontinuas.
- b) Sí, porque es un tramo recto y hay seguridad.
- c) No.



FAEA

19. ¿Qué inmovilización, de las que a continuación se citan, está prohibida en una autopista?

- a) La parada.
- b) La detención para abrocharme el cinturón de seguridad.
- c) La detención porque me duele la cabeza.



D.G.T.

20. ¿Qué alumbrado debe utilizar al circular por este túnel suficientemente iluminado?

- a) El de carretera a largo alcance.
- b) El de posición.
- c) El de corto alcance o de cruce.



FAEA

21. La inmovilización de un vehículo por emergencia se considera...

- a) Una parada.
- b) Un estacionamiento.
- c) Una detención.



FAEA

22. ¿Qué le indica la señal?

- a) La proximidad de una intersección en la que debo detenerme.
- b) La proximidad de una intersección en la que debo ceder el paso.
- c) La proximidad de una intersección en la que tengo preferencia de paso.



FAEA

23. ¿Puede atravesar la línea continua pintada en el eje de la calzada para adelantar al ciclista?

- a) No.
- b) Sí, porque dejo espacio suficiente para el cruce con otro vehículo.
- c) Sí, cuando no se aproxime ningún vehículo por el sentido contrario.



D.G.T.

24. ¿Debe ceder el paso en la intersección a los vehículos que se aproximan por la vía transversal a la vista de las señales?

- a) No.
- b) Sí, porque al existir una contradicción de mensajes, debo obedecer el más restrictivo que es el de la señal de “ceda el paso”.
- c) Sí, siempre que se aproximen por mi derecha.



FAEA

25. Dentro de un atasco, se encuentra detenido en el interior de un túnel, por lo que apaga el motor. ¿Debe tomar más precauciones?

- a) Sí, apagar todas las luces.
- b) Sí, desconectar la radio.
- c) Sí, mantener encendidas las luces de posición.



D.G.T.

26. ¿A qué velocidad máxima puede circular a partir de esta señal?

- a) A 50 km./h.
- b) A 90 km./h.
- c) A 120 km./h.



FAEA

27. Ante la señal del agente, ¿qué debe hacer?

- a) Girar a la izquierda.
- b) Detenerse.
- c) Detenerse sólo si va a girar a la izquierda.



D.G.T.

28. ¿A qué velocidad máxima está permitido circular en esta carretera?

- a) A 100 km./h.
- b) A 90 km./h.
- c) A 80 km./h.



D.G.T.

29. ¿Puede circular en autopista y autovía a una velocidad de 60 km./h.?

- a) Circulando con un turismo no.
- b) Sólo si no se puede circular a más velocidad.
- c) Sí, puesto que es la mínima permitida.



FAEA

30. Si Ud. Va a seguir de frente, ¿a qué semáforo debe obedecer?

- a) Al de la izquierda.
- b) Al de la derecha.
- c) Al que emita el mensaje más restrictivo.



FAEA



Soluciones al test

1-a; 2-a; 3-a; 4-c; 5-a; 6-a; 7-a; 8-a; 9-b; 10-b; 11-b; 12-c;
13-a; 14-a; 15-a; 16-a; 17-c; 18-c; 19-a; 20-c; 21-c; 22-b;
23-a; 24-a; 25-c; 26-c; 27-b; 28-b; 29-c; 30-a.

Número de fallos en el test escrito:

Valoración:

APROBADO

SUSPENSO

Tengo que repasar:

-
-
-
-