



Sesión 21

Cruces

Cruces



FAEA


¿En qué se diferencian estas intersecciones?



FAEA

INTERSECCIONES CON SEÑALES

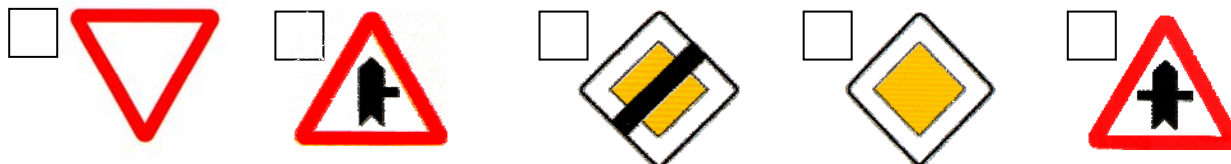
Sí tengo preferencia en los cruces.



No tengo preferencia en los cruces.



Relaciona:



- 1- Peligro por la proximidad de una intersección con preferencia.
- 2- Fin de calzada con preferencia.
- 3- Ceda el paso

- 4- Calzada con preferencia.
- 5- Peligro por la proximidad de una intersección con preferencia sobre la vía de la derecha.



1. Si las trayectorias de los vehículos llegasen a cortarse, ¿cuál pasaría primero?

- a) El vehículo rojo.
- b) El vehículo azul.
- c) El vehículo blanco.



D.G.T.

2. Si conduciendo su turismo se encuentra con la señalización que aparece en la fotografía ¿qué debe hacer?

- a) Pasar, ya que tengo preferencia
- b) Pasar con precaución, y ceder el paso a los vehículos que se aproximen por la derecha.
- c) Detenerme y ceder el paso a todos los vehículos.



D.G.T.

INTERSECCIONES SIN SEÑALES

Cuando no hay ninguna señal, **como norma general**, tienen preferencia los vehículos que entran en la intersección **por la derecha**.


Pero siempre tienen preferencia:

1. Los vehículos que circulan por las vías **pavimentadas**.
2. Los vehículos que circulan por **raíles**.
3. Los vehículos que circulan por una **autopista**.
4. Los vehículos que están circulando dentro de una **glorieta**.



FAEA

GLORIETA → INTERSECCIONES CON CIRCULACIÓN GIRATORIA



Esta señal indica que tienen preferencia los vehículos que entran en la intersección por **la derecha**.

Está prohibido circular a más de 50 Kilómetros por hora, cuando no hay visibilidad suficiente.



3. ¿En qué orden pasarán estos vehículos que pretenden seguir en línea recta?:

- a) Azul, amarillo y rojo.
- b) Rojo, amarillo y azul.
- c) Amarillo, azul y rojo.



FAEA

4. En una glorieta, los vehículos que circulen dentro de la vía circular...

- a) Tienen preferencia de paso sobre los que pretendan acceder a ella.
- b) Deben ceder el paso a los vehículos que pretendan acceder a ella por su derecha.
- c) Facilitarán siempre el acceso de otros vehículos a la misma.



D.G.T.

5. ¿Debe ceder el paso a un tractor que se aproxima por su derecha por un camino de tierra?

- a) Sólo si las circunstancias lo permiten.
- b) No, porque yo circulo por una vía pavimentada y tengo preferencia de paso.
- c) Sí, porque al no existir ninguna señal que regule la preferencia de paso, debo aplicar la norma general de prioridad a la derecha.



D.G.T.

PRIORIDAD DE PASO EN ESTRECHAMIENTOS

SEÑALIZADOS



No tengo
preferencia



Tengo
preferencia

SIN SEÑALIZAR

1. Tiene preferencia **el que llega primero.**
2. Si no se sabe quien ha llegado primero, tiene preferencia el que puede hacer maniobras más fácilmente.



6. Si al aproximarse a un paso estrecho usted encuentra esta señal, ¿qué debe hacer?

- a) No pasar si obligo a los vehículos que circulan en sentido contrario a detenerse.
- b) Pasar en todo caso porque la señal me concede prioridad de paso.
- c) No pasar porque la circulación en el sentido de mi marcha está prohibida.



FAEA

7. En un tramo de vía estrecho sin señalizar, ¿qué vehículo tendrá preferencia de paso?

- a) Siempre el vehículo con mayor masa máxima autorizada.
- b) El vehículo que haya entrado primero.
- c) Siempre el vehículo que tenga mayores dificultades de maniobra.



D.G.T.

8. Si se encuentra con esta señal, debe saber que...

- a) Tiene prioridad de paso respecto a los vehículos que circulan en sentido contrario.
- b) Tienen prioridad de paso los vehículos que circulan en sentido contrario.
- c) Tienen prioridad de paso los turismos.



FAEA

9. A la vista de la señal, ¿cuándo se puede circular a más de 70 kilómetros por hora?

- a) Cuando encuentre la señal de fin de prohibición de velocidad máxima.
- b) Cuando finalice el peligro que indica la señal.
- c) Cuando pase la primera curva.



FAEA